



SCĂDEREA

clasa PREGĂTITOARE

Despre acest caiet

Vei întâlni 3 niveluri de dificultate:




Nivelul 1

Îți vei aminti noțiuni de bază deja învățate și le vei exersa.



Nivelul 2

Vei aplica cunoștințele dobândite pentru a rezolva noi tipuri de exerciții.



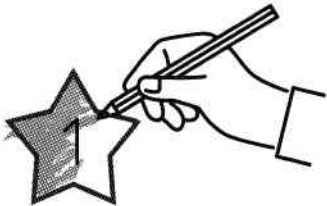
Nivelul 3

Îți vei dezvolta abilitățile de rezolvare a problemelor, până vei deveni expert.

Cum te evaluezi?

Pasul 1

Verifică rezultatele și colorează sau încercuiește steluțele din dreptul răspunsurilor corecte.



Pasul 2

Vezi cât valorează steluțele și scrie sus câte puncte ai adunat.




Pasul 3

Când obții peste 80 de puncte la o pagină, lipește pe diploma de la final o steluță aurie. Dacă reușești să o completezi în întregime, ești campion!



Ai peste 80?
Lipește steluța pe diplomă.



0	1	2	3	4	5
				10	



0					
6	7	8	9	10	



0	1	2	3		
				10	



0	1			4	5
		8	9		

Scrierea numerelor de la 0 la 20

= 25 puncte

Scrie numerele care lipsesc.

Scrie câte puncte ai adunat:



Ai peste 80?
Lipește steluța pe diplomă.

1

0	1				
			9	10	

2

10		12		14	
16		18		20	

3

0	1	2	3	4	5	6	7			
11	12	13	14			17	18			

4

			3	4	5				9	10
11				15	16	17				

= 25 puncte

Scrie numerele care lipsesc.

Scrie câte puncte ai adunat:



10	11				
				20	



0	1	2	3	4	5	6				
				15	16	17	18	19	20	



5				8	9	
			13	14	15	



10	11				
	17				20



0				4	5			8		
11				15				19	20	

= 20 puncte

Scrierea numerelor de la 0 la 31



20	21	22			
		28	29	30	31



10	11	12	13	14						
		23	24	25	26	27	28	29	30	31



0	1	2	3	4						
					16	17	18	19	20	21
22	23	24								



0	1	2	3	4	5	6	7	8	9	10
11	12	13	14	15	16	17	18	19	20	



1 $0 + 1 =$

14 $3 + 1 =$

2 $0 + 2 =$

15 $3 + 2 =$

3 $8 + 0 =$

16 $8 + 1 =$

4 $0 + 0 =$

17 $4 + 0 =$

5 $1 + 0 =$

18 $4 + 1 =$

6 $1 + 1 =$

19 $4 + 2 =$

7 $1 + 2 =$

20 $8 + 2 =$

8 $6 + 1 =$

21 $5 + 0 =$

9 $2 + 0 =$

22 $5 + 1 =$

10 $2 + 1 =$

23 $7 + 1 =$

11 $2 + 2 =$

24 $7 + 2 =$

12 $6 + 2 =$

25 $7 + 0 =$

13 $3 + 0 =$

